

# Multi Tasking (Non-Technical) Staff Examination 2019



Roll No.	
Registration No.	
Name	
Test Venue	iON Digital Zone iDZ 1 Sector 62
Test Time	12:30 PM - 2:00 PM
Test Date	02/08/2019

Section : General English

**Q.1 Choose the word that can substitute the given sentence.**  
A building where an audience sits

- Ans
- 1. Aisle
  - 2. Hanger
  - 3. Gymnasium
  - 4. Auditorium

Question ID : 23908747  
Status : Answered  
Chosen Option : 4

**Q.2 Select the most appropriate option to fill in the blank.**  
He \_\_\_\_\_ his portrait in the main hall.

- Ans
- 1. had hanged
  - 2. hung
  - 3. hang
  - 4. hanged

Question ID : 23908734  
Status : Answered  
Chosen Option : 2

**Q.3 Choose the correctly spelt word.**

- Ans
- 1. Anthusiasm
  - 2. Enthusiasm
  - 3. Enthusiasm
  - 4. Entheusiasm

Question ID : 23908749  
Status : Answered  
Chosen Option : 3

**Q.4 Choose the word that can substitute the given sentence.**  
A book of names and addresses

- Ans
- 1. Diary
  - 2. Directory
  - 3. Dictionary
  - 4. Journal

Question ID : 23908748

Status : Answered

Chosen Option : 4



**Q.5** Select the most appropriate synonym of the given word.  
**Misfortune**

- Ans
- 1. Benefit
  - 2. Calamity
  - 3. Support
  - 4. Miracle

Question ID : 23908741

Status : Answered

Chosen Option : 2

**Q.6** Select the most appropriate synonym of the given word.  
**Capable**

- Ans
- 1. Competent
  - 2. Conceited
  - 3. Complacent
  - 4. Consistent

Question ID : 23908742

Status : Answered

Chosen Option : 1

**Q.7** Select the most appropriate option to substitute the underlined segment in the given sentence. If there is no need to substitute it, select No Improvement.  
Mohan is pleased at the news yesterday.

- Ans
- 1. No Improvement
  - 2. was pleased
  - 3. had being pleased
  - 4. has been pleased

Question ID : 23908732

Status : Answered

Chosen Option : 2

**Q.8** Select the most appropriate antonym of the given word.  
**Comic**

- Ans
- 1. Tickle
  - 2. Happy
  - 3. Tragic
  - 4. Jubilant

Question ID : 23908744

Status : Answered

Chosen Option : 3

**Q.9** Select the most appropriate option to substitute the underlined segment in the given

sentence. If there is no need to substitute it, select No Improvement.  
The doctor has reassure me that the operation was a routine one.

- Ans
- 1. No Improvement
  - 2. had reassured me
  - 3. is reassured me
  - 4. reassure me



Question ID : 23908731  
Status : Answered  
Chosen Option : 2

Q.10 In the following question, out of the given four alternatives, select the alternative which best expresses the meaning of the Idiom/Phrase.  
Over my dead body

- Ans
- 1. Opposing something fiercely
  - 2. Inheriting to fortune
  - 3. Erecting a grave stone
  - 4. Threatening to kill oneself

Question ID : 23908745  
Status : Answered  
Chosen Option : 1

Q.11 A sentence has been given with a blank to be filled with an appropriate word. Choose the correct alternative.  
The bullet struck a wall and was \_\_\_\_\_ from its course.

- Ans
- 1. reflected
  - 2. twisted
  - 3. deflected
  - 4. crashed

Question ID : 23908751  
Status : Answered  
Chosen Option : 2

Q.12 Find the part of the given sentence that has an error in it. If there is no error, choose 'No error'.  
My aunt/sold her boutique/to a billionaire.

- Ans
- 1. to a billionaire
  - 2. sold her boutique
  - 3. My aunt
  - 4. No error

Question ID : 23908728  
Status : Answered  
Chosen Option : 1

Q.13 In the following question, out of the given four alternatives, select the alternative which best expresses the meaning of the Idiom/Phrase.  
To end in smoke

- Ans
- 1. To do one's duty well
  - 2. To not agree to something

3. To be the cause of a quarrel

4. To come to nothing



FRESHERS NOW

Question ID : 23908746

Status : Answered

Chosen Option : 3

Q.14 Find the part of the given sentence that has an error in it. If there is no error, choose 'No error'.

All the students/is done/better this year.

Ans  1. All the students

2. is done

3. No error

4. better this year

Question ID : 23908727

Status : Answered

Chosen Option : 2

Q.15 Find the part of the given sentence that has an error in it. If there is no error, choose 'No error'.

Rakesh is foolish/to said/such things.

Ans  1. to said

2. No error

3. such things

4. Rakesh is foolish

Question ID : 23908729

Status : Answered

Chosen Option : 1

Q.16 Choose the correctly spelt word.

Ans  1. Finacialy

2. Financially

3. Finantially

4. Finicially

Question ID : 23908750

Status : Answered

Chosen Option : 2

Q.17 Select the most appropriate antonym of the given word.

Inexpensive

Ans  1. Dear

2. Reasonable

3. Popular

4. Liberal

Question ID : 23908743

Status : Answered

Chosen Option : 4

**Q.18** Select the most appropriate option to fill in the blank.  
My teacher is the \_\_\_\_\_ of all.

- Ans  1. kindest  
 2. kind  
 3. kinder  
 4. kindly

Question ID : 23908733  
Status : Answered  
Chosen Option : 1

**Comprehension:**

In the following passage some words have been deleted. Fill in the blanks with the help of the alternatives given. Select the most appropriate option for each blank.

Sanitation refers to public health conditions (1)\_\_\_\_\_ to clean drinking water and adequate treatment and disposal (2)\_\_\_\_\_ human waste and sewage. (3)\_\_\_\_\_ human contact with faeces is part of sanitation. Sanitation system (4)\_\_\_\_\_ to protect human health by providing a clean environment (5) \_\_\_\_\_ will stop the transmission of disease.

**SubQuestion No : 19**

**Q.19** Select the most appropriate option for blank No. 1.

- Ans  1. relate  
 2. relation  
 3. related  
 4. relates

Question ID : 23908736  
Status : Answered  
Chosen Option : 4

**Comprehension:**

In the following passage some words have been deleted. Fill in the blanks with the help of the alternatives given. Select the most appropriate option for each blank.

Sanitation refers to public health conditions (1)\_\_\_\_\_ to clean drinking water and adequate treatment and disposal (2)\_\_\_\_\_ human waste and sewage. (3)\_\_\_\_\_ human contact with faeces is part of sanitation. Sanitation system (4)\_\_\_\_\_ to protect human health by providing a clean environment (5) \_\_\_\_\_ will stop the transmission of disease.

**SubQuestion No : 20**

**Q.20** Select the most appropriate option for blank No. 2.

- Ans  1. of  
 2. for  
 3. with  
 4. in

Question ID : 23908737  
Status : Answered  
Chosen Option : 1

**Comprehension:**

In the following passage some words have been deleted. Fill in the blanks with the help of the alternatives given. Select the most appropriate option for each blank.

Sanitation refers to public health conditions (1)\_\_\_\_\_ to clean drinking water and adequate treatment and disposal (2)\_\_\_\_\_ human waste and sewage. (3)\_\_\_\_\_ human contact with faeces is part of sanitation. Sanitation system (4)\_\_\_\_\_ to protect human health by providing a clean environment (5) \_\_\_\_\_ will stop the transmission of disease.

SubQuestion No : 21

Q.21 Select the most appropriate option for blank No. 3.

- Ans  1. Preventing  
 2. Hampering  
 3. Prohibiting  
 4. Facilitating

Question ID : 23908738  
Status : Answered  
Chosen Option : 1

Comprehension:

In the following passage some words have been deleted. Fill in the blanks with the help of the alternatives given. Select the most appropriate option for each blank.

Sanitation refers to public health conditions (1)\_\_\_\_\_ to clean drinking water and adequate treatment and disposal (2)\_\_\_\_\_ human waste and sewage. (3)\_\_\_\_\_ human contact with faeces is part of sanitation. Sanitation system (4)\_\_\_\_\_ to protect human health by providing a clean environment (5) \_\_\_\_\_ will stop the transmission of disease.

SubQuestion No : 22

Q.22 Select the most appropriate option for blank No. 4.

- Ans  1. ignores  
 2. paves  
 3. aims  
 4. directs

Question ID : 23908739  
Status : Answered  
Chosen Option : 3

Comprehension:

In the following passage some words have been deleted. Fill in the blanks with the help of the alternatives given. Select the most appropriate option for each blank.

Sanitation refers to public health conditions (1)\_\_\_\_\_ to clean drinking water and adequate treatment and disposal (2)\_\_\_\_\_ human waste and sewage. (3)\_\_\_\_\_ human contact with faeces is part of sanitation. Sanitation system (4)\_\_\_\_\_ to protect human health by providing a clean environment (5) \_\_\_\_\_ will stop the transmission of disease.

SubQuestion No : 23

Q.23 Select the most appropriate option for blank No. 5.

- Ans  1. that  
 2. who  
 3. whom  
 4. these

Question ID : 23908740  
Status : Answered  
Chosen Option : 2

Q.24 A sentence has been given with a blank to be filled with an appropriate word. Choose the correct alternative.

I am \_\_\_\_\_ of winning the competition.

- Ans  1. resistant  
 2. confident

3. pertinent

4. reliant



Question ID : 23908752

Status : Answered

Chosen Option : 2

Q.25 Select the most appropriate option to substitute the underlined segment in the given sentence. If there is no need to substitute it, select No Improvement.

Who can prevent you from getting married now that you are within age?

Ans  1. in

2. of

3. No Improvement

4. on

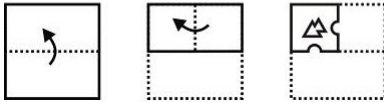
Question ID : 23908730

Status : Answered

Chosen Option : 1

Section : General Intelligence & Reasoning

Q.1 एक कागज को नीचे दी गयी प्रश्न आकृतियों में दिखाए अनुसार मोड़कर काटा गया है। खोलने के बाद वह किस उत्तर आकृति जैसा दिखाई देगा?



Ans

1.



2.



3.



4.



Question ID : 239087304

Status : Answered

Chosen Option : 3

Q.2 एक कूट भाषा में, 'PRINT' को '96512' लिखा जाता है और 'FROM' को '8603' लिखा जाता है। उसी कूट भाषा में 'PROMPT' का कोड क्या होगा?

- Ans
- 1. 960398
  - 2. 960392
  - 3. 980392
  - 4. 960395

Question ID : 239087287

Status : Answered

Chosen Option : 2

Q.3 निम्नलिखित विकल्पों में से उस शब्द को चुनिए जो निम्नलिखित श्रृंखला में तीसरे शब्द से उसी तरह से संबंधित है जिस तरह से दूसरा शब्द पहले शब्द से संबंधित है।

गुफा : शेर :: अस्तबल : ?

- Ans
- 1. घोड़ा
  - 2. कार
  - 3. बाघ
  - 4. पक्षी





Question ID : 239087282

Status : Answered

Chosen Option : 1

Q.4 दिए गए पैटर्न का ध्यानपूर्वक अध्ययन करें और उस आकृति को चुनें जो प्रश्न चिह्न (?) के स्थान पर आएगी?



- Ans
- 1. 
  - 2. 
  - 3. 
  - 4. 

Question ID : 239087301

Status : Answered

Chosen Option : 1

Q.5 निम्नलिखित विकल्पों में से उस अक्षर युग्म को चुनिए जो निम्नलिखित श्रृंखला में तीसरे अक्षर युग्म से उसी तरह से संबंधित है, जिस तरह से दूसरा अक्षर युग्म पहले अक्षर युग्म से संबंधित है।

PB : UW :: JT : ?

- Ans
- 1. NO



✓ 2. 00

✗ 3. MO

✗ 4. PP

Question ID : 239087284

Status : Answered

Chosen Option : 2

Q.6 उस आरेख को चुनिए जो नीचे दिए गए वर्गों के बीच के संबंध को सही प्रकार से दर्शाता है।

कार, लकड़ी, चूहा

Ans



Question ID : 239087305

Status : Answered

Chosen Option : 2

Q.7 जब एक दर्पण को AB रेखा पर रखा जाता है, तो नीचे दी गई आकृति की सही दर्पण छवि को चुनिए?



Ans



3.



4.



Question ID : 239087303

Status : Answered

Chosen Option : 2

Q.8 एक कूट भाषा में, 'TAN' को '33' लिखा जाता है और 'PAM' को '28' लिखा जाता है। उसी कूट भाषा में 'BUG' का कोड क्या होगा?

- Ans
- 1. 32
  - 2. 29
  - 3. 28
  - 4. 30

Question ID : 239087288

Status : Answered

Chosen Option : 3

Q.9 नीचे दिए विकल्पों में से उस संख्या को चुनिए जो निम्नलिखित श्रृंखला में प्रश्न चिह्न (?) के स्थान पर आएगी।  
43, 31, 74, 105, 179, ?

- Ans
- 1. 279
  - 2. 284
  - 3. 294
  - 4. 263

Question ID : 239087294

Status : Answered

Chosen Option : 3

Q.10 यदि दो चिह्नों, 'x तथा ÷' को आपस में बदल दिया जाता है तो निम्नलिखित में से कौन सा समीकरण सही होगा?

- Ans
- 1.  $14 + 62 \times 13 \div 31 = 38$
  - 2.  $14 + 9 \div 23 \times 3 = 83$
  - 3.  $11 \times 12 \div 48 + 6 = 40$
  - 4.  $63 + 59 \div 4 \times 8 = 171$

Question ID : 239087299

Status : Answered

Chosen Option : 2

Q.11

दिए गए पैटर्न का ध्यानपूर्वक अध्ययन करें और उस संख्या को चुनें जो प्रश्न चिह्न (?) के स्थान पर आएगी।

4 11 19  
5 6 0  
9 13 3  
18 30 ?

- Ans
- 1. 20
  - 2. 24
  - 3. 18
  - 4. 22

Question ID : 239087297  
Status : Answered  
Chosen Option : 4

Q.12 नीचे दिए विकल्पों में से उस अक्षर युग्म को चुनिए जो निम्नलिखित श्रृंखला में प्रश्न चिह्न (?) के स्थान पर आएगा।

KP, HM, EJ, BG, ?

- Ans
- 1. XC
  - 2. YD
  - 3. ZE
  - 4. YC

Question ID : 239087281  
Status : Answered  
Chosen Option : 2

Q.13 दिए गए विकल्पों में से उस उत्तर आकृति को चुनिए जिसमें नीचे दी गई आकृति अन्तर्निहित है। (आकृति को घुमाने की अनुमति नहीं है)



Ans

1.



2.



3.



✓ 4.




Question ID : 239087302

Status : Answered

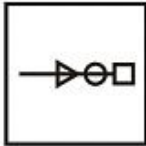
Chosen Option : 2

Q.14 दिए गए विकल्पों में से उस आकृति को चुनिए जो निम्नलिखित श्रृंखला में अगले स्थान पर आएगी।

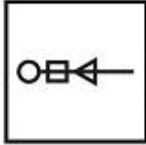


Ans

✗ 1.



✗ 2.



✗ 3.



✓ 4.



Question ID : 239087300

Status : Answered

Chosen Option : 4

Q.15 एक कूट भाषा में, 'GREAT' को 'ALYUN' लिखा जाता है। उसी कूट भाषा में 'RAPID' का कोड क्या होगा?

Ans

✓ 1. LUJCX

✗ 2. SWLEZ

✗ 3. LVJCX

✗ 4. RVKDY

Question ID : 239087285

Status : Answered

Chosen Option : 1

Q.16 पाँच किताबें - B, G, N, P तथा T एक के ऊपर एक रखी गई हैं (जरूरी नहीं कि वे इसी क्रम में हों)। N तथा G के मध्य केवल एक किताब रखी गयी है। B, P के ठीक ऊपर है। B, N के ऊपर है। G, N के ऊपर नहीं है। सबसे ऊपर कौन सी किताब है?

Ans

✓ 1. B

- 2. G
- 3. T
- 4. P

Question ID : 239087291  
Status : Answered  
Chosen Option : 1

Q.17 नीचे दिए गए कथनों और उनके निष्कर्षों को ध्यान से पढ़िए। कथनों में दी गई जानकारी को सत्य मानते हुए, चाहे वे सामान्य रूप से ज्ञात तथ्यों से भिन्न लगते हों, निर्णय कीजिए कि दिए गए कौनसा/से निष्कर्ष, कथनों का तार्किक रूप से अनुसरण करता/करते हैं।

कथन:

- I. कुछ K, M हैं।
- II. कोई T, M नहीं है।

निष्कर्ष:

- I. कुछ T, K हैं।
- II. कुछ M, K हैं।

- Ans
- 1. दोनों निष्कर्ष I तथा II अनुसरण करते हैं।
  - 2. केवल निष्कर्ष I अनुसरण करता है।
  - 3. कोई भी निष्कर्ष अनुसरण नहीं करता है।
  - 4. केवल निष्कर्ष II अनुसरण करता है।

Question ID : 239087293  
Status : Answered  
Chosen Option : 4

Q.18 उस शब्द युग्म का चयन कीजिए जिसके दोनों शब्द आपस में उसी प्रकार संबंधित है जिस प्रकार नीचे दिए गए शब्द युग्म के दोनों शब्द आपस में संबंधित है।

वृत्त : आकृति

- Ans
- 1. खिलौना : खेलना
  - 2. कार : चालक
  - 3. शार्पनर : लेखन-सामग्री
  - 4. कृतक : सरीसृप

Question ID : 239087283  
Status : Answered  
Chosen Option : 3

Q.19 पाँच व्यक्ति - F, J, N, R तथा V केन्द्र की ओर मुख करके एक वृत्ताकार मेज के इर्द-गिर्द बैठे हुए हैं (जरूरी नहीं कि वे इसी क्रम में हों)। J, F के तुरंत बायीं ओर बैठा है। N, F के बायीं ओर दूसरे स्थान पर है। V, J के बायीं ओर दूसरे स्थान पर है। J के दायीं ओर दूसरे स्थान पर कौन बैठा हुआ है?

- Ans
- 1. R
  - 2. N
  - 3. F
  - 4. V

Question ID : 239087290  
Status : Answered  
Chosen Option : 1

Q.20 नीचे दिए गए कथनों और उनके निष्कर्षों को ध्यान से पढ़िए। कथनों में दी गई जानकारी को सत्य मानते हुए,

चाहे वे सामान्य रूप से ज्ञात तथ्यों से भिन्न लगते हों, निर्णय कीजिए कि दिए गए कौनसा/से निष्कर्ष, कथनों का तार्किक रूप से अनुसरण करता/करते हैं।



कथन:

कुछ बर्तन दीये हैं।  
सभी दीये पेड़ हैं।  
कोई पेड़ शाखा नहीं है।

निष्कर्ष:

I. कुछ बर्तन शाखाएँ हैं।  
II. कुछ पेड़ दीये हैं।  
III. कुछ शाखाएँ दीये हैं।

- Ans
- 1. निष्कर्ष I और III अनुसरण करते हैं।
  - 2. केवल निष्कर्ष III अनुसरण करता है।
  - 3. केवल निष्कर्ष II अनुसरण करता है।
  - 4. निष्कर्ष I और II अनुसरण करते हैं।

Question ID : 239087292

Status : Answered

Chosen Option : 3

Q.21 एक कूट भाषा में, 'STEALH' को 'UXGENL' लिखा जाता है। उसी कूट भाषा में 'ROBNRT' का कोड क्या होगा?

- Ans
- 1. TSERTX
  - 2. UTESUY
  - 3. TSDRTX
  - 4. UTFSUY

Question ID : 239087286

Status : Answered

Chosen Option : 3

Q.22 निम्नलिखित विकल्पों में से उस संख्या को चुनिए जो निम्नलिखित श्रृंखला में तीसरी संख्या से उसी तरह से संबंधित है जिस तरह से दूसरी संख्या पहली संख्या से संबंधित है।

36 : 109 :: 25 : ?

- Ans
- 1. 72
  - 2. 76
  - 3. 74
  - 4. 78

Question ID : 239087296

Status : Answered

Chosen Option : 2

Q.23 नीचे दिए विकल्पों में से उस संख्या को चुनिए जो निम्नलिखित श्रृंखला में प्रश्न चिह्न (?) के स्थान पर आएगी।

69, 109, 159, 219, 289, ?

- Ans
- 1. 349
  - 2. 359
  - 3. 369
  - 4. 379

Q.24 छह मित्र - C, E, G, I, K तथा M केन्द्र की ओर मुख करके एक वृत्ताकार मेज के इर्द-गिर्द बैठे हुए हैं और वे सभी एक - दूसरे से बराबर दूरी पर हैं (जरूरी नहीं कि वे इसी क्रम में हों)। E, C के दायीं ओर पर दूसरे स्थान पर है। K, G के तुरंत दायीं ओर पर है। G तथा I एक दूसरे की तरफ आमने-सामने मुंह किये हुए हैं। I के बायीं ओर से चलते हुए, I तथा M के मध्य कितने मित्र बैठे हुए हैं?

- Ans  1. 3  
 2. 1  
 3. 0  
 4. 2

Question ID : 239087289

Status : Answered

Chosen Option : 3

Q.25 यदि अंक 2 और अंक 1 को परस्पर बदल दिया जाता है तो निम्नलिखित समीकरण का मान क्या होगा?

$$9 + 6 \div 4 \times 21 - 5 = ?$$

- Ans  1. 22  
 2. 23  
 3. 29  
 4. 24

Question ID : 239087298

Status : Answered

Chosen Option : 1

Section : Numerical Aptitude

Q.1 यदि  $U + V = 80$  तथा  $U : V = 5 : 3$  है, तो  $U - V$  का मान कितना है?

- Ans  1. 20  
 2. 15  
 3. 30  
 4. 25

Question ID : 239087417

Status : Answered

Chosen Option : 1

Q.2  $A = \frac{3}{4}$  तथा  $\frac{9}{16}$  का महत्तम समापवर्तक (एच सी एफ)

$B = \frac{16}{5}$  तथा  $\frac{4}{25}$  का लघुत्तम समापवर्तक (एल सी एम)

$A + B$  का मान कितना है?

- Ans  1.  $\frac{250}{81}$   
 2.  $\frac{70}{23}$

- ✓ 3.  $\frac{271}{80}$
- ✗ 4.  $\frac{260}{71}$

Question ID : 239087406  
Status : Answered  
Chosen Option : 3

Q.3 किसी वस्तु को 25% लाभ तथा 37.5% हानि पर बेचने से विक्रय मूल्य का अंतर ₹1250 है। जब इसे 12.5% लाभ पर बेचा जाता है तो इसका विक्रय मूल्य कितना होगा?

- Ans
- ✗ 1. ₹1800
- ✗ 2. ₹2500
- ✗ 3. ₹2400
- ✓ 4. ₹2250

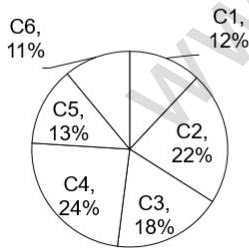
Question ID : 239087414  
Status : Answered  
Chosen Option : 4

Q.4 49, 62, 37, 55 तथा x का औसत 53 है। x का मान कितना है?

- Ans
- ✗ 1. 56
- ✗ 2. 68
- ✗ 3. 76
- ✓ 4. 62

Question ID : 239087409  
Status : Answered  
Chosen Option : 4

Q.5 नीचे दिया गया वृत्त-आरेख, छह अलग-अलग कंपनियों द्वारा किसी कार्यालय में प्रदत्त लैपटॉप की संख्या को, लैपटॉपों की कुल संख्या के प्रतिशत के रूप में दर्शाता है। वृत्त-आरेख में प्रदर्शित केंद्रीय कोण किसी चयनित पैमाने के अनुसार नहीं है।



कंपनी C6 द्वारा प्रदत्त लैपटॉपों का संगत केंद्रीय कोण (दशमलव के एक स्थान तक) कितनी डिग्री का है?

- Ans
- ✗ 1. 51.7°
- ✗ 2. 45.1°
- ✓ 3. 39.6°
- ✗ 4. 52.8°

Question ID : 239087430  
Status : Answered



Q.6 किसी वस्तु का अंकित मूल्य ₹2500 है। उसे क्रमशः 12% तथा 10% की दो क्रमिक छूटों पर बेचा जाता है। विक्रय मूल्य कितना है?

- Ans
- 1. ₹1870
  - 2. ₹2090
  - 3. ₹1760
  - 4. ₹1980

Question ID : 239087411

Status : Answered

Chosen Option : 4

Q.7 महेश का वेतन सुमित के वेतन से ₹12000 अधिक है। यदि महेश तथा सुमित के वेतन का अनुपात 7 : 4 है, तो सुमित का वेतन कितना है?

- Ans
- 1. ₹16000
  - 2. ₹12000
  - 3. ₹18000
  - 4. ₹20000

Question ID : 239087418

Status : Answered

Chosen Option : 1

Q.8  $7 \div 2 - [3 \text{ of } 7 \div 4 \div \{(2 \div 5) \times (25 \div 8) \div (5 \div 2)\}]$

का मान कितना है?

- Ans
- 1. -8
  - 2. -7
  - 3. -1
  - 4. -9

Question ID : 239087408

Status : Answered

Chosen Option : 2

Q.9 DD.MM के रूप में लिखित, वर्ष 2019 की माध्यिका-तिथि (मीडियन डेट) है:

- Ans
- 1. 01.07
  - 2. 30.06
  - 3. 02.07
  - 4. 03.07

Question ID : 239087412

Status : Answered

Chosen Option : 1

Q.10 एक कार 6 मिनट में 300 मीटर की दूरी तय कर सकती है। उसकी औसत गति km/h में कितनी है?

- Ans
- 1. 50
  - 2. 3
  - 3. 12
  - 4. 6

Question ID : 239087423  
Status : Answered  
Chosen Option : 2

Q.11 एक व्यक्ति अपने वेतन का 10% भोजन पर खर्च करता है। वह शेष भाग का 20% ईंधन पर खर्च करता है। यदि उसके पास ₹4680 शेष है, तो उसका वेतन कितना है?

- Ans
- 1. ₹6000
  - 2. ₹5000
  - 3. ₹6500
  - 4. ₹5500

Question ID : 239087413  
Status : Answered  
Chosen Option : 3

Q.12 शांत जल में एक नाव की गति 8 km/h है। यदि धारा की गति 2 km/h है, तो धारा के प्रतिकूल जाते हुए 2 घंटे में नाव कितनी दूरी तय करेगी?

- Ans
- 1. 16 km
  - 2. 14 km
  - 3. 20 km
  - 4. 12 km

Question ID : 239087424  
Status : Answered  
Chosen Option : 4

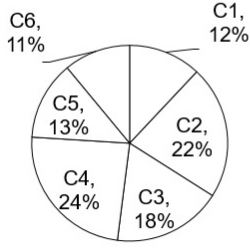
Q.13 किसी समचतुर्भुज की परिमाप 20 cm है। इसके एक विकर्ण की लम्बाई 6 cm है। दूसरे विकर्ण की लम्बाई कितनी है?

- Ans
- 1. 10 cm
  - 2. 8 cm
  - 3. 9 cm
  - 4. 6 cm

Question ID : 239087426  
Status : Answered  
Chosen Option : 2

Q.14

नीचे दिया गया वृत्त-आरेख, छह अलग-अलग कम्पनियों द्वारा किसी कार्यालय में प्रदत्त लैपटॉप की संख्या को, लैपटॉपों की कुल संख्या के प्रतिशत के रूप में दर्शाता है। वृत्त-आरेख में प्रदर्शित केंद्रीय कोण किसी चयनित पैमाने के अनुसार नहीं है।



कंपनी C1 तथा कंपनी C3 के लैपटॉपों की संख्या का अनुपात कितना है?

- Ans
- 1. 2 : 1
  - 2. 12 : 11
  - 3. 2 : 3
  - 4. 6 : 11

Question ID : 239087428  
Status : Answered  
Chosen Option : 2

Q.15 कोई व्यक्ति 2 वर्षों के लिए ₹500, 5 वर्षों के लिए ₹600 तथा 6 वर्षों के लिए ₹1000 सभी को साधारण ब्याज की समान दर पर जमा करता है। यदि वह कुल ₹1000 का साधारण ब्याज प्राप्त करता है, तो प्रति वर्ष ब्याज की दर कितनी है?

- Ans
- 1. 15%
  - 2. 5%
  - 3. 10%
  - 4. 20%

Question ID : 239087419  
Status : Answered  
Chosen Option : 3

Q.16 8 सोने के सिक्कों का औसत भार 20 g प्रति सिक्का है। चाँदी के 12 सिक्कों का औसत भार 35 g प्रति सिक्का है। 20 सिक्कों के लिए प्रति सिक्का औसत भार कितना है?

- Ans
- 1. 25 g
  - 2. 29 g
  - 3. 21 g
  - 4. 31 g

Question ID : 239087410  
Status : Answered  
Chosen Option : 2

Q.17 किसी वस्तु को 15% लाभ पर ₹1725 में बेचा जाता है। यदि इसे 15% की हानि पर बेचा जाता है तो विक्रय मूल्य कितना होगा?

- Ans
- 1. ₹1275
  - 2. ₹1475

✗ 3. ₹1025

✗ 4. ₹1325



Question ID : 239087415  
Status : Answered  
Chosen Option : 1

Q.18

एक वर्ग की भुजा 6 cm है। वर्ग के अंदर बनने वाले सबसे बड़े वृत्त का क्षेत्रफल कितना है? ( $\pi = \frac{22}{7}$  लें)

Ans ✓ 1.  $\frac{198}{7} \text{ cm}^2$

✗ 2.  $\frac{318}{7} \text{ cm}^2$

✗ 3.  $\frac{252}{7} \text{ cm}^2$

✗ 4.  $\frac{156}{7} \text{ cm}^2$

Question ID : 239087425  
Status : Answered  
Chosen Option : 1

Q.19

A अकेला किसी कार्य को 30 दिन में कर सकता है। B अकेला उसी कार्य को 40 दिन में कर सकता है। यदि A से शुरुआत करके वे एकांतर दिनों (अल्टरनेट डेज़) में काम करते हैं, तो कार्य कितने दिनों में (दशमलव के दो स्थानों तक) पूरा हो जाएगा?

Ans ✓ 1. 34.25

✗ 2. 32.33

✗ 3. 16.33

✗ 4. 17.25

Question ID : 239087422  
Status : Answered  
Chosen Option : 1

Q.20

यदि कोई राशि चक्रवृद्धि ब्याज (वार्षिक संयोजित) की समान दर से दो वर्ष पश्चात ₹4000 तथा चार वर्ष पश्चात ₹6000 हो जाती है, तो राशि कितनी है?

Ans ✗ 1. ₹2888.88

✓ 2. ₹2666.66

✗ 3. ₹2777.77

✗ 4. ₹2866.66

Question ID : 239087420  
Status : Not Answered  
Chosen Option : --

Q.21

$\frac{3}{4}$  of  $\left(\frac{1}{3} \div \frac{1}{2}\right) + \left(2 - \frac{2}{5}\right) \times \frac{3}{2} + \frac{2}{3}$  का मान कितना है?

Ans ✓ 1.  $\frac{107}{30}$

2.  $\frac{101}{6}$
3.  $\frac{109}{17}$
4.  $\frac{103}{25}$

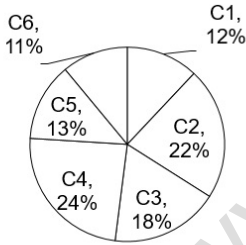
Question ID : 239087407  
Status : Answered  
Chosen Option : 1

Q.22 A तथा B मिलकर किसी कार्य को 20 दिन में कर सकते हैं। B तथा C मिलकर उसी कार्य को 25 दिन में कर सकते हैं। C तथा A मिलकर उसी कार्य को 15 दिन में कर सकते हैं। A अकेला उस कार्य को कितने दिनों में कर सकता है?

- Ans  1.  $\frac{600}{17}$
2.  $\frac{600}{23}$
3.  $\frac{1200}{23}$
4.  $\frac{1200}{17}$

Question ID : 239087421  
Status : Answered  
Chosen Option : 2

Q.23 नीचे दिया गया वृत्त-आरेख, छह अलग-अलग कम्पनियों द्वारा किसी कार्यालय में प्रदत्त लैपटॉप की संख्या को, लैपटॉपों की कुल संख्या के प्रतिशत के रूप में दर्शाता है। वृत्त-आरेख में प्रदर्शित केंद्रीय कोण किसी चयनित पैमाने के अनुसार नहीं है।



कार्यालय में यदि लैपटॉपों की कुल संख्या 3800 है तो कंपनी C2 तथा C5 के लैपटॉपों की संख्या में अंतर कितना है?

- Ans  1. 382
2. 362
3. 342
4. 322

Question ID : 239087429  
Status : Answered  
Chosen Option : 3

Q.24 किसी घनाभ की लम्बाई, चौड़ाई और ऊंचाई क्रमशः 15 cm, 12 cm तथा 11 cm है। लम्बाई को  $6\frac{2}{3}\%$  घटा दिया जाता है और चौड़ाई को  $8\frac{1}{3}\%$  बढ़ा दिया जाता है जबकि ऊंचाई को अपरिवर्तित रखा जाता है। घनाभ के (लम्बाई और चौड़ाई से बने आयत को आधार मानते हुए) चार पार्श्व-फलकों के कुल क्षेत्रफल में कितना परिवर्तन है?

- Ans  1. 22 cm<sup>2</sup> की कमी

2. 22 cm<sup>2</sup> की वृद्धि
3. कोई परिवर्तन नहीं
4. 33 cm<sup>2</sup> की वृद्धि

Question ID : 239087427  
Status : Answered  
Chosen Option : 3

Q.25 यदि  $x + y + z = 400$  तथा  $x : y : z = 1 : 1 : 2$  है, तो  $z$  का मान कितना है?

- Ans  1. 100
2. 150
3. 120
4. 200

Question ID : 239087416  
Status : Answered  
Chosen Option : 4

Section : General awareness

Q.1 उपभोक्ता संरक्षण विधेयक, 2018 ने उपभोक्ता संरक्षण अधिनियम का स्थान ले लिया है जिसे \_\_\_\_\_ में लागू किया गया था।

- Ans  1. 1988
2. 1984
3. 1986
4. 1989

Question ID : 239087165  
Status : Not Answered  
Chosen Option : --

Q.2 गनमेटल (Gunmetal) किस मिश्र धातु से निर्मित है?

- Ans  1. कॉपर, टिन, जिंक
2. कॉपर, लेड, सिल्वर
3. कॉपर, जिंक, लेड
4. कॉपर, आयरन, निकेल

Question ID : 239087173  
Status : Answered  
Chosen Option : 4

Q.3 भारतीय संविधान में निम्नलिखित में से कौन-सी विशेषता को सोवियत सोशलिस्ट रिपब्लिक (USSR) से लिया गया था?

- Ans  1. मौलिक अधिकार
2. पंचवर्षीय योजना
3. प्रस्तावना

✗ 4. समवर्ती सूची



Question ID : 239087167  
Status : Answered  
Chosen Option : 1

Q.4 डुगोंग किस जैवमंडल संरक्षण क्षेत्र का प्रमुख जीव है?

- Ans
- ✗ 1. सिमलीपाल
  - ✓ 2. मन्नार की खाड़ी
  - ✗ 3. मानस
  - ✗ 4. ग्रेट रण ऑफ कच्छ

Question ID : 239087175  
Status : Answered  
Chosen Option : 1

Q.5 निम्नलिखित में से कौन-सी नोबल गैस अचेतन-शून्य करने के लिये उपयोग की जाती है?

- Ans
- ✓ 1. ज़ीनों
  - ✗ 2. आर्गन
  - ✗ 3. नियॉन
  - ✗ 4. हीलियम

Question ID : 239087174  
Status : Answered  
Chosen Option : 2

Q.6 गुरजीत कौर का निम्नलिखित में से किस खेल से संबंध है?

- Ans
- ✓ 1. हॉकी
  - ✗ 2. कुश्ती
  - ✗ 3. भारोत्तोलन
  - ✗ 4. तैराकी

Question ID : 239087160  
Status : Answered  
Chosen Option : 1

Q.7 निम्नलिखित में से कौन-सा त्योहार ओडिशा में मनाया जाता है?

- Ans
- ✗ 1. बोनालु
  - ✗ 2. छप्पड़ मेला
  - ✓ 3. बाली तृतीय
  - ✗ 4. हॉर्नबिल

Question ID : 239087158  
Status : Not Answered  
Chosen Option : --

Q.8 बेरीबेरी \_\_\_\_\_ की कमी के कारण होता है।

- Ans
- ✗ 1. विटामिन B3

- 2. विटामिन B6
- 3. विटामिन B1
- 4. विटामिन B12



Question ID : 239087171  
Status : Answered  
Chosen Option : 3

Q.9 आईन-ए-अकबरी' के लेखक कौन थे?

- Ans
- 1. खाफी खां
  - 2. अबुल फजल
  - 3. अकबर
  - 4. भीमसेन

Question ID : 239087178  
Status : Answered  
Chosen Option : 2

Q.10 गोल गुम्बज भारत के किस राज्य में स्थित है?

- Ans
- 1. आंध्रप्रदेश
  - 2. कर्नाटक
  - 3. महाराष्ट्र
  - 4. केरल

Question ID : 239087157  
Status : Answered  
Chosen Option : 3

Q.11 निम्नलिखित में से कौन-सा नृत्य गोवा का लोक नृत्य है?

- Ans
- 1. फगुआ
  - 2. फुगड़ी
  - 3. बिहू
  - 4. मांच

Question ID : 239087156  
Status : Answered  
Chosen Option : 1

Q.12 निम्नलिखित में से कौन-सा स्टेडियम विश्व का सबसे बड़ा क्रिकेट स्टेडियम है?

- Ans
- 1. पर्थ स्टेडियम
  - 2. लॉर्ड्स क्रिकेट स्टेडियम
  - 3. ईडन गार्डन
  - 4. मेलबर्न क्रिकेट ग्राउंड

Question ID : 239087159  
Status : Answered  
Chosen Option : 2

Q.13



निम्नलिखित में से कौन-सा कोशिका अंगक(Cell Organelles) आत्महत्या की थैली (Suicide Bag) के रूप में जाना जाता है?



- Ans
- 1. गॉल्जी तंत्र
  - 2. सूत्रकणिका
  - 3. लयनकाय
  - 4. अन्तः प्रद्रव्यी जालिका

Question ID : 239087172  
Status : Answered  
Chosen Option : 3

Q.14 सूरजकुंड झील निम्नलिखित राज्यों में से किस राज्य में स्थित है?

- Ans
- 1. हरियाणा
  - 2. गुजरात
  - 3. पंजाब
  - 4. राजस्थान

Question ID : 239087177  
Status : Answered  
Chosen Option : 1

Q.15 भारत के मुख्य न्यायाधीश की नियुक्ति कौन करता है?

- Ans
- 1. प्रधान मंत्री
  - 2. लोकसभा अध्यक्ष
  - 3. उपराष्ट्रपति
  - 4. राष्ट्रपति

Question ID : 239087169  
Status : Answered  
Chosen Option : 4

Q.16 'अमुक्त मल्यादा' का लेखन किसने किया था?

- Ans
- 1. कृष्णदेव राय
  - 2. ब्रह्मदेव राय
  - 3. बुक्का राय
  - 4. हरिहर राय

Question ID : 239087162  
Status : Not Answered  
Chosen Option : --

Q.17 ए प्राइम मिनिस्टर टू रिमेम्बर- मेमोरीज ऑफ़ ए मिलिट्री चीफ़' नामक पुस्तक का लेखन किस पूर्व मुख्य नौसेना एडमिरल ने किया है?

- Ans
- 1. सुशील कुमार
  - 2. अरुण प्रकाश
  - 3. देवेन्द्र कुमार
  - 4. निर्मल कुमार

Question ID : 239087163  
Status : Answered  
Chosen Option : 4



Q.18 मोहम्मद गौरी और पृथ्वीराज चौहान के बीच कौन-सी लड़ाई हुई थी?

- Ans  1. तराइन की लड़ाई  
 2. खानवा का युद्ध  
 3. प्लासी की लड़ाई  
 4. बक्सर का युद्ध

Question ID : 239087180  
Status : Answered  
Chosen Option : 1

Q.19 नाइट्रोजन निर्धारण के लिए कौन-सा सहजीवी जीवाणु जिम्मेदार है?

- Ans  1. राइजोबियम  
 2. स्ट्रेप्टोमोनास  
 3. लैक्टोबैसिलस  
 4. एजोटोबैक्टर

Question ID : 239087170  
Status : Not Answered  
Chosen Option : --

Q.20 जीएसटी (GST) परिषद में कितने सदस्य हैं?

- Ans  1. 33  
 2. 35  
 3. 25  
 4. 23

Question ID : 239087166  
Status : Answered  
Chosen Option : 1

Q.21 जून 2019 तक की स्थिति के अनुसार, भारत का कौन-सा नाभिकीय ऊर्जा संयंत्र अधिकतम ऊर्जा का उत्पादन करता है?

- Ans  1. रावतभाटा  
 2. कुडनकुलम  
 3. कैगा  
 4. काकरापार

Question ID : 239087176  
Status : Answered  
Chosen Option : 3

Q.22 भारत में कम्युनिस्ट पार्टी का गठन किस वर्ष हुआ था?

- Ans  1. 1925  
 2. 1922

3. 1927

4. 1930



FRESHERS.NOW

Question ID : 239087179

Status : Answered

Chosen Option : 1

Q.23 द साइलेंट क्राई के लेखक/लेखिका कौन हैं?

Ans  1. हारुकी मुराकामी

2. केन्ज़ाबुरो ओए

3. जॉन मिल्टन

4. माइकल मधुसूदन दत्त

Question ID : 239087161

Status : Not Answered

Chosen Option : --

Q.24 भारतीय राष्ट्रीय कांग्रेस के 19वें सत्र के अध्यक्ष कौन थे?

Ans  1. गोपाल कृष्ण गोखले

2. सर हेनरी कॉटन

3. लाल मोहन घोष

4. सुरेन्द्रनाथ बनर्जी

Question ID : 239087168

Status : Answered

Chosen Option : 3

Q.25 राजकोषीय घाटा का अर्थ क्या है?

Ans  1. सरकार द्वारा एकत्रित कुल राजस्व

2. सरकार के कुल राजस्व और कुल व्यय के बीच अंतर

3. सरकार का कुल व्यय

4. सरकार द्वारा ली गयी कुल उधार राशि

Question ID : 239087164

Status : Answered

Chosen Option : 4